

사회탐구 영역(사회·문화)

제 4 교시

성명

수험번호

2

1

1. 밑줄 친 ㉠, ㉡과 같은 현상의 일반적인 특징에 대한 설명으로 옳은 것은?

지리산에서 '3세대 반달가슴곰'이 또 발견되었다. 국립공원 관리공단은 2004년부터 ㉠ 지리산에 반달가슴곰 38마리를 차례로 방사해 왔는데, 이번에 발견된 반달가슴곰을 포획해 DNA를 분석한 결과, 자연적으로 출생한 3세대 반달가슴곰이라는 결론이 나왔다. 국립공원 관리공단은 "㉡ 3세대 반달가슴곰들이 지속적으로 태어나는 것은 반달가슴곰들이 지리산 야생에 안정적으로 적응해 스스로 잘 살아가고 있다는 증거"라고 발표했다.

- ① ㉠과 같은 현상은 ㉡과 같은 현상과 달리 불가치적이다.
- ② ㉠과 같은 현상은 ㉡과 같은 현상에 비해 보편성이 강하다.
- ③ ㉠과 같은 현상은 ㉡과 같은 현상과 달리 예측이 용이하다.
- ④ ㉡과 같은 현상은 ㉠과 같은 현상과 달리 당위 법칙을 따른다.
- ⑤ ㉡과 같은 현상은 ㉠과 같은 현상에 비해 인과 관계가 분명하다.

2. 밑줄 친 ㉠, ㉡에 나타난 문화 이해의 태도에 대한 설명으로 옳은 것은?

- A국의 문화는 자국 선교사들의 열성에 힘입어 B국으로 전파되었다. 이때 선교사들은 B국의 문화적 전통이나 가치 규범은 무시한 채 ㉠ A국의 생활양식이 가장 바람직하다는 생각을 가지고 A국의 문화 요소를 전파하기 위해 노력하였다.
- 인도 사람들은 갠지스강에서 목욕이나 빨래를 하는데, 이 강에는 시체가 떠내려오기도 한다. 이를 인도 사람들은 아무렇지 않게 여기는데, 힌두교를 믿는 인도 사람들은 갠지스강을 성스러운 장소로 여겨 이 강에서는 모든 것이 정화된다고 믿기 때문이다. 이처럼 ㉡ 한 사회의 문화는 그 사회의 입장에서 바라보아야 올바르게 이해할 수 있게 된다.

- ① ㉠의 태도는 다른 문화 수용에 적극적이다.
- ② ㉠의 태도는 모든 문화의 고유한 가치를 존중한다.
- ③ ㉡의 태도는 자기 문화의 주체성을 상실할 가능성이 높다.
- ④ ㉠의 태도는 ㉡의 태도에 비해 문화의 다양성 보존에 기여한다.
- ⑤ ㉡의 태도는 ㉠의 태도와 달리 문화 간에는 우열이 없다고 본다.

3. 그림은 우리나라의 '발효 음식'과 관련된 자료를 수집하는 상황을 나타낸 것이다. (가)~(다)에서 사용한 자료 수집 방법에 대한 설명으로 옳은 것은? [3점]



- ① (가)의 방법은 계량화된 자료 수집에 적절하다.
- ② (나)의 방법은 문맹자로부터 자료를 수집하기에 유리하다.
- ③ (다)의 방법은 시간과 장소의 제약을 많이 받는다.
- ④ (가)의 방법은 (나)의 방법에 비해 연구 대상자와의 신뢰 관계 형성이 증진된다.
- ⑤ (나)의 방법은 (가), (다)의 방법에 비해 심층적인 자료 수집에 적절하다.

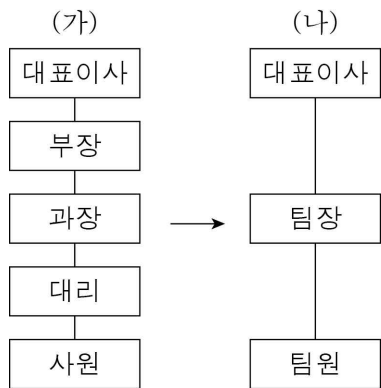
4. 근대화와 관련된 갑, 을의 이론에 대한 설명으로 옳은 것은?

[3점]



- ① 갑의 이론은 서구 중심적 사고라는 비판을 받기도 한다.
- ② 갑의 이론은 비서구 국가들이 발전하지 못하는 이유를 외부적 요인에서 찾는다.
- ③ 을의 이론은 신흥 공업 국가들의 발전을 설명하기에 적합하다.
- ④ 을의 이론은 서구 사회의 식민 정책을 정당화하는 근거로 활용되었다.
- ⑤ 갑과 을의 이론 모두 사회 변동에 일정한 방향이 있다고 본다.

5. 최근 ○○기업은 회사 조직 체계를 (가)에서 (나)로 개편하였다. 이를 통해 기대할 수 있는 효과로 가장 적절한 것은? [3점]



- ① 신속한 의사 결정
- ② 업무의 일관성 유지
- ③ 업무의 세분화 및 전문화
- ④ 구성원 간의 위계질서 강화
- ⑤ 권한과 책임 소재의 명확화

6. 사회화를 바라보는 다음 관점에 부합하는 진술로 가장 적절한 것은?

다른 사람들이 나를 똑똑하거나 용감하다고 생각하면 나도 내 자신을 똑똑하거나 용감하다고 생각하고, 무능하거나 비겁하다고 생각하면 나도 나를 그런 사람이라고 인식할 가능성이 높다. 이처럼 각자의 자아상은 스스로 만들어 내기보다는 자신에 대한 다른 사람들의 판단에 비추어 만들어진다. 즉 자아상은 자신에 대해 주변의 타자(他者)가 부여한 의미가 소통되고 공유되면서 형성되는 것이다.

- ① 사회화의 내용은 전체 사회의 필요에 의해 결정된다.
- ② 사회화는 다른 사람과의 상호 작용을 통해 이루어진다.
- ③ 사회화는 지배 집단의 이익을 확대하기 위한 수단이다.
- ④ 사회화는 사회 구조와 제도의 측면에서 바라보아야 한다.
- ⑤ 사회화를 통해 지배층의 문화가 전수되고 기존의 권력 구조가 재생산된다.

7. 밑줄 친 ㉠ ~ ㉤에 대한 설명으로 옳지 않은 것은? [3점]

갑은 평소 ㉠ 학급 회장으로서 학급 친구들의 의견을 대변하고 선생님의 말씀을 따라야 하는 책무를 성실히 수행해왔다. 그런데 ㉡ 학교에서 개최하는 합창 대회를 앞두고 합창곡을 선택하는 과정에서 ㉢ 학급 친구들은 최신 대중가요를 선곡할 것을 요구하는 반면 ㉣ 음악 선생님은 합창에는 가곡이 적합하니 가곡을 선곡하는 것이 좋겠다고 말씀하셨다. 이에 갑은 ㉤ 학급 친구들의 요구와 음악 선생님의 말씀 중 어떤 것을 수용해야 할지 고민이 되어 ㉥ 아버지께 조언을 구했다.

- ① ㉠은 갑의 역할 행동이다.
- ② ㉡은 사회화를 목적으로 설립된 기관이다.
- ③ ㉢은 갑의 소속 집단이다.
- ④ ㉣은 갑의 역할 갈등에 해당한다.
- ⑤ ㉤은 ㉢과 달리 성취 지위에 해당한다.

8. 개인과 사회의 관계를 바라보는 관점 (가), (나)에 대한 설명으로 옳은 것은? [3점]



- ① (가)는 사회는 개인의 힘에 불과하다고 본다.
- ② (가)는 사회가 개인의 외부에 실제로 존재한다고 본다.
- ③ (나)는 개인은 사회 속에서만 존재 의미를 갖는다고 본다.
- ④ (나)는 사회 전체를 위해 개인의 희생을 정당화할 위험이 있다.
- ⑤ (나)는 (가)와 달리 사회 문제 해결을 위해 의식 개혁보다 제도 개혁을 중시한다.

9. 다음 글에서 강조하는 내용으로 가장 적절한 것은?

사회학이 사회를 연구하는 경험 과학이라고 한다면, 어떤 이론적 진술이 타당한지 또는 구체적 현실에 부합하는지 객관적으로 검증될 수 있어야 한다. 이를 위해 사회 현상을 분석하는 과정에서 연구자는 일체의 가치를 배제하고, 있는 그대로의 사실을 탐구해야 한다. 그래야만 사회 현상에 대한 과학적 이해가 가능하게 되는 것이다.

- ① 사실과 가치의 구분은 불가능하다.
- ② 개인적 가치보다 사회적 가치를 우선해야 한다.
- ③ 연구자는 가치 중립적인 자세로 탐구에 임해야 한다.
- ④ 연구자는 연구 과정에서 개방적 태도를 유지해야 한다.
- ⑤ 자료 수집 과정에서 연구자의 가치 개입은 불가피하다.

10. 표는 사회·문화 현상을 바라보는 관점 (가)~(다)를 비교한 것이다. 이에 대한 설명으로 옳은 것은? [3점]

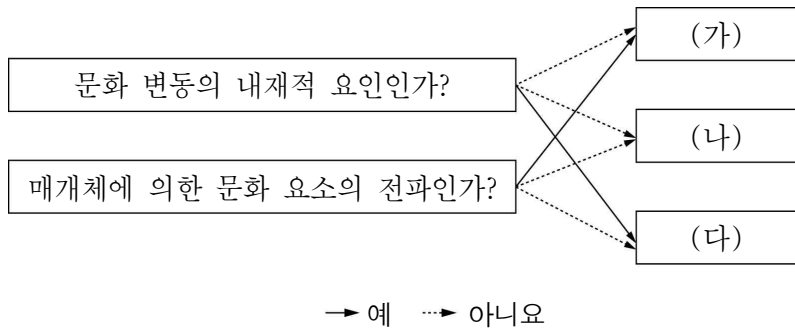
구분	(가)	(나)	(다)
전제	사회는 유기체와 유사한 특성을 지니고 있음.	사회적 관계는 지배와 피지배의 관계로 이루어짐.	인간은 자율성을 지닌 능동적 존재임.
기본 입장	사회는 본질적으로 조화와 균형을 이루는 체계임.	계급 간의 갈등은 필연적으로 발생함.	인간은 대상에 대해 주관적인 의미를 부여하는 주체임.

- ① (가)는 사회 구성 요소 간의 상호 의존적 관계를 경시한다.
- ② (나)는 급격한 사회 변동을 설명하기 어렵다.
- ③ (다)는 기득권층의 이익을 대변한다는 비판을 받는다.
- ④ (가)는 (나)와 달리 사회의 통합과 존속을 중시한다.
- ⑤ (다)는 (나)와 달리 거시적 측면에서 사회·문화 현상을 분석한다.

(사회·문화) 사회탐구 영역

3

11. 그림은 문화 변동의 요인을 구분한 것이다. (가)~(다)에 대한 옳은 설명을 <보기>에서 고른 것은? (단, (가)~(다)는 각각 발명, 간접 전파, 직접 전파 중 하나이다.)



< 보 기 >
 ㄱ. 인터넷을 통한 한류의 확산은 (가)의 사례에 해당한다.
 ㄴ. 에디슨이 최초로 축음기를 만든 것은 (다)의 사례에 해당한다.
 ㄷ. (가)는 직접 전파, (나)는 간접 전파에 해당한다.
 ㄹ. 다른 사회와의 교류 과정에서 발생한 문화 변동은 (가), (나)가 아닌 (다)로 설명된다.

- ① ㄱ, ㄴ ② ㄱ, ㄷ ③ ㄴ, ㄷ ④ ㄴ, ㄹ ⑤ ㄷ, ㄹ

12. 밑줄 친 ㉠~㉣에 대한 옳은 설명만을 <보기>에서 있는 대로 고른 것은?

㉠ 경기 불황으로 혼인 기피 현상이 확산되면서 1인 가구가 증가하고 있다. 가구 소득이 적은 1인 가구는 비용 절감을 위해 소유보다는 공유 지향의 소비를 하게 되었고, 이로 인해 렌탈 시장이 유망 산업으로 등장하면서 ㉡ 렌탈 문화가 확산되었다. 렌탈 문화는 물자를 절약하고 재활용하는 취지로 한때 붐이 일었던 아껴 쓰고 나눠 쓰고 바꿔 쓰고 다시 쓰자는 ㉢ '아나바다 운동'의 확장으로 볼 수 있다. 이제 렌탈 문화는 우리 사회의 ㉣ 소비 문화로 정착되기에 이르렀다.

< 보 기 >
 ㄱ. ㉠은 문화 요소가 유기적으로 결합되어 있음을 보여준다.
 ㄴ. ㉡은 주류 문화에 저항하는 반문화로 분류된다.
 ㄷ. ㉢은 물질문화로 분류되는 문화 요소에 해당한다.
 ㄹ. ㉣에서 '문화'는 넓은 의미의 문화로 사용되었다.

- ① ㄱ, ㄷ ② ㄱ, ㄹ ③ ㄴ, ㄷ
 ④ ㄱ, ㄴ, ㄹ ⑤ ㄴ, ㄷ, ㄹ

13. 표는 우리나라의 사회 보장 제도 유형 A, B와 각 유형에 해당하는 제도를 나타낸 것이다. A, B에 대한 설명으로 옳은 것은? (단, A, B는 각각 공공 부조와 사회 보험 중 하나이다.) [3점]

유형	제도
A	국민의 질병, 부상 및 건강 증진 등에 대해 보험 급여를 실시하는 제도
B	생활이 어려운 사람에게 필요한 급여를 실시하여 최소한의 인간다운 생활을 할 수 있도록 돕는 제도

- ① A는 저소득층을 대상으로 하는 공공 부조이다.
 ② B는 상호 부조의 원리를 바탕으로 한다.
 ③ B는 A와 달리 사전 예방적 복지를 추구한다.
 ④ A, B 모두 금전적 지원을 원칙으로 한다.
 ⑤ A, B 모두 국가가 비용을 전액 부담한다.

14. 빈곤 유형 A, B에 대한 설명으로 옳은 것은? (단, A, B는 각각 절대적 빈곤, 상대적 빈곤 중 하나이다.) [3점]

최근 갑국은 예전과 달리 A보다 B가 심각한 사회 문제로 등장하고 있다. 경제가 성장하면서 소득이 생존에 필요한 최저 기준에 미치지 못하는 A 가구 비율은 감소하고 있는데 비해, 소득 격차가 심화되면서 B 가구 비율은 증가하고 있기 때문이다.

- ① A 가구 비율은 후진국보다 선진국에서 높다.
 ② A 가구가 감소하면 B 가구는 증가한다.
 ③ A는 B와 달리 상대적 박탈감을 유발한다.
 ④ 최저 생계비의 인상은 A보다 B에 대한 대책으로 볼 수 있다.
 ⑤ A와 B 가구의 증가는 사회 통합을 저해하는 요인이 될 수 있다.

15. 밑줄 친 ㉠~㉣에 대한 설명으로 옳지 않은 것은?

㉠ 전근대 사회에서 인구의 대다수를 차지한 하층민들의 교육은 주로 가정에서 이루어지는 경우가 많았다. 이에 비해 ㉡ 근대 사회에서는 대중 교육의 필요성이 확산되어 학교 교육 제도가 발달하기 시작하였다. ㉢ 근대 사회 초기에는 개인이나 특정 단체가 설립한 학교에 의해 교육이 이루어졌으나, ㉣ 근대 사회 후기에는 ㉤ 의무 교육의 실시 등 국가에 의해 교육이 주도되기 시작했다.

- ① ㉠에서는 주로 공식적 사회화 기관을 통해 교육이 이루어졌다.
 ② ㉡으로 인해 제도적으로 교육을 받을 기회가 많아졌다.
 ③ ㉠보다 ㉡에서 교육을 목적으로 설립된 기관이 더 많았다.
 ④ ㉠보다 ㉢에서 교육을 통한 계층 이동이 활발했다.
 ⑤ ㉢보다 ㉣에서 공교육이 확대되었다.

16. 다음 글에서 도출할 수 있는 결론으로 가장 적절한 것은?

과거에는 농촌에서 아이들이 밭 주인의 허락 없이 수박이나 참외를 가져다가 먹는 경우가 많았다. 그리고 상당수의 사람들은 이를 일탈 행동으로 생각하지 않았다. 그러나 오늘날에는 그런 행동을 일탈 행동이나 범죄로 인식하고 제재를 가해야 한다고 생각하는 사람들이 많다.

- ① 일탈 행동은 상대적으로 규정된다.
- ② 목표와 수단의 괴리는 일탈 행동의 원인이다.
- ③ 일탈 행동은 타인과의 상호 작용 과정에서 학습된다.
- ④ 무규범 상태에서 일탈 행동이 발생할 가능성이 높다.
- ⑤ 일탈 행동은 사회 구조적 모순에 의한 불평등의 결과이다.

17. 갑이 사용한 연구 방법에 대한 설명으로 옳은 것은?

갑은 노인의 인간관계 밀도가 높을수록 삶의 만족도가 높을 것이라는 가설을 세우고 연구를 진행하였다. 그는 65세 이상 남녀 500명을 대상으로 질문지법을 통해 자료를 수집하였다. 인간관계 밀도는 신뢰하는 사람의 숫자 및 일주일 동안 그들과의 접촉 빈도로 측정하였고, 삶의 만족도는 0~10까지 11단계 척도로 측정하였다.

- ① 편지, 일기와 같은 비공식적 자료를 선호한다.
- ② 연구자의 직관적 통찰 및 감정 이입적 이해를 중시한다.
- ③ 사회·문화 현상 속에 내재된 법칙 발견을 목적으로 한다.
- ④ 자연 현상과 사회·문화 현상은 본질적으로 다르다고 본다.
- ⑤ 연구 대상자의 주관적 가치 및 행위 동기를 이해하는 데 적합하다.

18. 표는 대중 매체 A~C의 일반적인 특징을 비교한 것이다. 이에 대한 옳은 설명을 <보기>에서 고른 것은? (단, A~C는 각각 종이 신문, 텔레비전, 사회 관계망 서비스(SNS) 중 하나이다.) [3점]

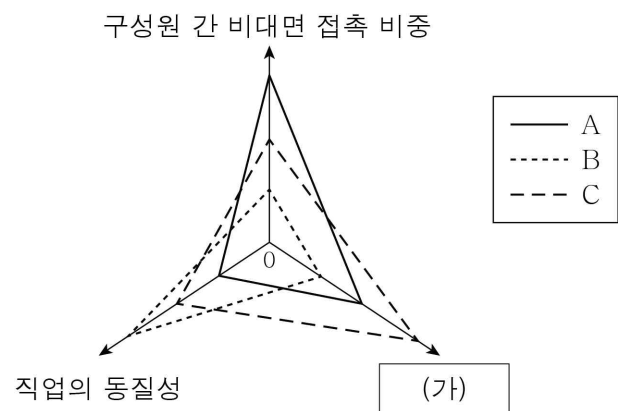
비교 기준	비교 결과
쌍방향 정보 전달의 가능성	A > B
문맹자의 정보 접근 가능성	B > C

< 보 기 >

ㄱ. A는 정보의 생산자와 소비자 간의 경계가 모호하다.
 ㄴ. B는 A에 비해 정보의 복제와 재가공이 쉽다.
 ㄷ. C는 A에 비해 정보 확산의 시·공간적 제약이 크다.
 ㄹ. A, C는 B와 달리 시청각 정보 제공이 용이하다.

- ① ㄱ, ㄴ ② ㄱ, ㄷ ③ ㄴ, ㄷ ④ ㄴ, ㄹ ⑤ ㄷ, ㄹ

19. A~C의 일반적인 특징에 대한 옳은 설명을 <보기>에서 고른 것은? (단, A~C는 각각 농업 사회, 산업 사회, 정보 사회 중 하나이다.)



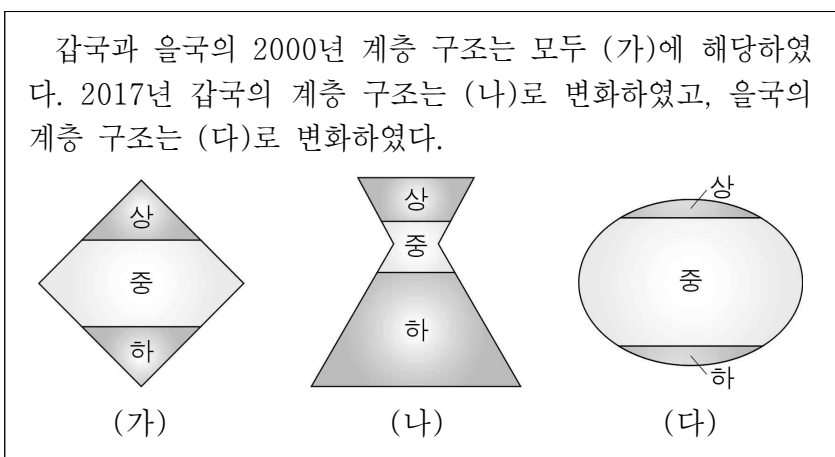
* 0에서 멀수록 그 정도가 높거나 강함.

< 보 기 >

ㄱ. A는 B보다 가정과 일터의 결합 정도가 높다.
 ㄴ. B는 C보다 확대 가족의 비율이 높다.
 ㄷ. C는 A보다 소품종 대량 생산의 비중이 높다.
 ㄹ. (가)에는 '지식 관련 산업의 비중'이 들어갈 수 있다.

- ① ㄱ, ㄴ ② ㄱ, ㄷ ③ ㄴ, ㄷ ④ ㄴ, ㄹ ⑤ ㄷ, ㄹ

20. 다음 자료에 대한 설명으로 옳은 것은? [3점]



- ① (가)는 주로 신분제 사회에서 나타나는 계층 구조이다.
- ② 저개발 국가에서는 일반적으로 (나)보다 (다)가 나타난다.
- ③ (가)~(다) 중 (나)가 사회 통합에 가장 불리하다.
- ④ 갑국의 계층 구조는 복지 제도의 확대에 의해 변화하였다.
- ⑤ 을국은 폐쇄적 계층 구조에서 개방적 계층 구조로 변화하였다.

※ 확인 사항
 ○ 답안지의 해당란에 필요한 내용을 정확히 기입(표기)했는지 확인하십시오.